

## ÔN TẬP VỀ HÌNH HỌC VÀ GIẢI TOÁN

Hướng dẫn giải

Giáo viên: Cao Thị Dung

**Bài 1.** Hùng có 16 que tính, Minh có nhiều hơn Hùng 7 que tính nhưng ít hơn Hải 3 que tính. Hỏi cả ba bạn có bao nhiêu que tính ?

**HDG:**

Minh có số que tính là:  $16 + 7 = 23$  (que tính)

Hải có số que tính là:  $23 + 3 = 26$  (que tính)

Số que tính của cả ba bạn là:  $23 + 26 + 16 = 65$  (que tính)

**Bài 2.** Khối lớp ba có 185 bạn nam và 192 bạn nữ. Hỏi

a. Khối lớp ba có tất cả bao nhiêu bạn?

b. Số bạn nữ nhiều hơn số bạn nam bao nhiêu bạn?

**HDG:**

a. Khối lớp ba có tất cả số bạn là:  $185 + 192 = 377$  (bạn)

b. Số bạn nữ nhiều hơn số bạn nam số bạn là:  $192 - 185 = 13$  (bạn)

**Bài 3.** Cuộn dây thứ nhất dài 90m, cuộn dây thứ hai dài 78m. Hỏi cuộn dây thứ nhất dài hơn cuộn dây thứ hai bao nhiêu mét?

**HDG:** Cuộn thứ hai dài hơn cuộn thứ nhất số mét là:  $90 - 78 = 12$  (m)

**Bài 4.** Bao gạo cân nặng 482kg, bao ngô nặng hơn bao gạo 22kg. Hỏi bao ngô nặng bao nhiêu ki-lô-gam?

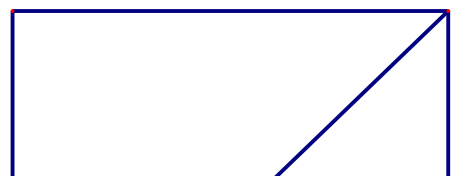
**HDG:** Bao ngô nặng số ki-lô-gam là:  $482 + 22 = 504$  (kg)

**Bài 5.** Khối lớp một gộp được 127kg giấy vụn, khối lớp 2 gộp được 452kg giấy vụn. Hỏi khối lớp hai gộp được nhiều hơn khối lớp một bao nhiêu ki-lô-gam giấy vụn?

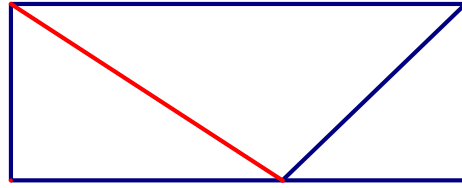
**HDG:**

Khối hai gộp được nhiều hơn khối lớp một số ki-lô-gam giấy vụn là:  $452 - 127 = 325$  (kg)

**Bài 6.** Vẽ thêm 1 nét vào hình dưới đây để được 3 hình tam giác và 3 hình tứ giác:




**HDG:**



**Bài 7.** Hình sau có bao nhiêu hình tam giác?

**HDG:** Có 4 hình tam giác



**Bài 8.** Viết số thích hợp vào chỗ chấm:

Trong hình bên:


Có ..... hình tam giác.

Có ..... hình tứ giác.

**HDG:**

Có 9 hình tam giác.

Có 4 hình tứ giác

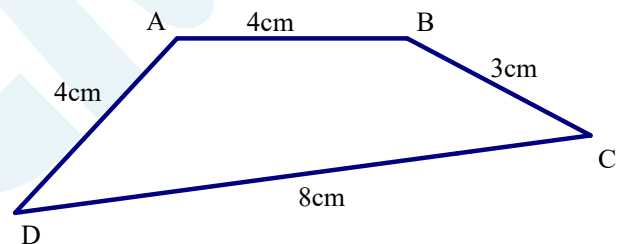


**Bài 9.** Cho hình tứ giác ABCD như sau.

Tính chu vi hình tứ giác ABCD.

**HDG:**

Chu vi của tứ giác là:  $4 + 3 + 8 + 4 = 19\text{cm}$



**Bài 10.** Vẽ đoạn thẳng AB dài 1 cm.

Vẽ đoạn thẳng CD dài gấp 7 lần đoạn thẳng AB.

**HDG:**

Học sinh tự vẽ hình.

Độ dài đoạn thẳng CD là:  $1 \times 7 = 7(\text{cm})$

**Giáo viên: Cao Thị Dung**

**Nguồn :**  **Hocmai**